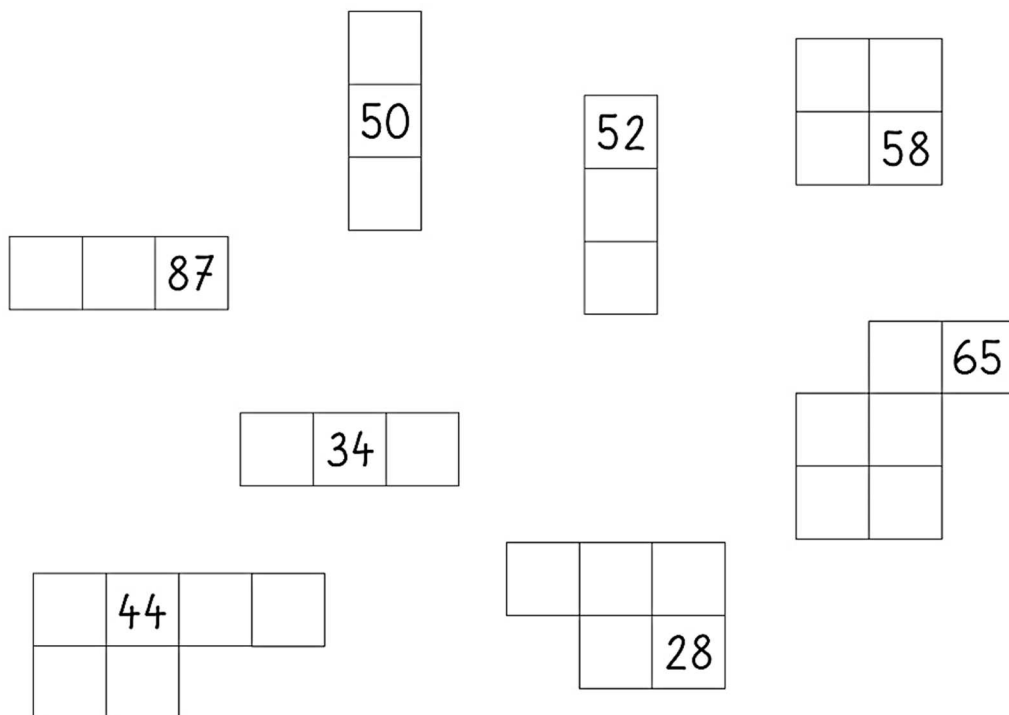
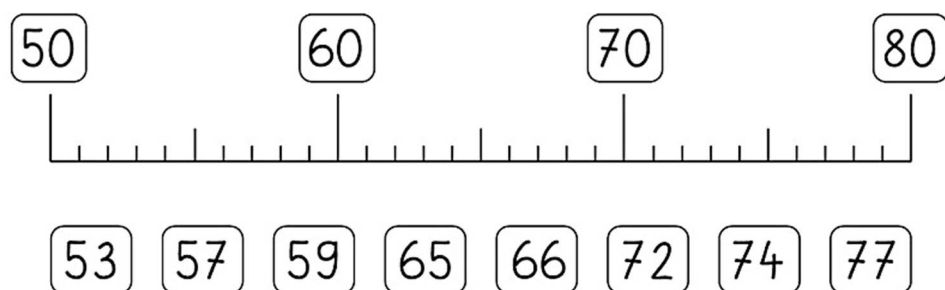


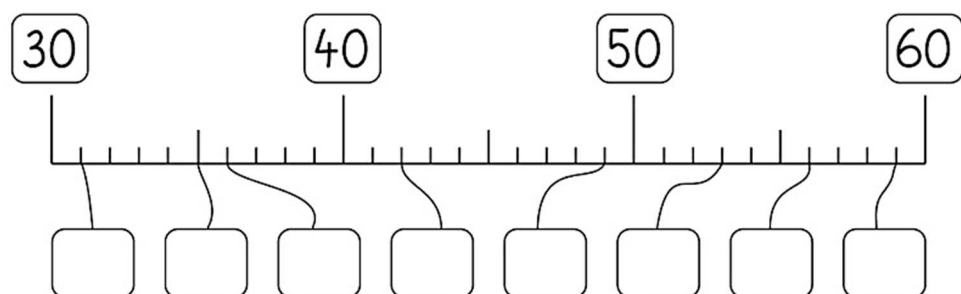
4. Poišči manjkajoča števila.



5. Poveži števila na ustrezno mesto na številskem traku.



6. V kvadratke vpiši ustrezna števila s številskega traku.



7. Obkroži največje število.

a) 7 81 37 15 20

b) 27 61 97 35 91

c) 73 45 26 19 8

d) 63 75 2 29 14

8. Obkroži najmanjše število.

a) 7 81 37 15 20

b) 27 61 97 35 91

c) 73 45 26 19 38

d) 63 75 22 29 14

9. Poišči manjkajoča števila.

predhodnik	število	naslednik
	72	
	45	
	63	
	95	
	24	
	86	
	39	

predhodnik	število	naslednik
		51
	34	
92		
29		
		46
75		
		60

10. Vstavi < > =.

81 71

98 89

29 71

19 24

15 51

42 28

45 54

75 78

67 76

67 68

31 13

56 49

11. Uredi števila po velikosti. Začni z najmanjšim.

87, 59, 32, 64 _____	30, 99, 21, 90 _____	28, 17, 65, 61 _____
51, 92, 58, 70 _____	25, 83, 13, 71 _____	22, 74, 50, 87 _____
62, 26, 42, 24 _____	27, 63, 72, 36 _____	76, 74, 47, 67 _____

12. Uredi števila po velikosti. Začni z največjim.

97, 68, 42, 73 _____	40, 89, 31, 50 _____	38, 27, 55, 41 _____
61, 82, 48, 60 _____	35, 43, 63, 51 _____	42, 24, 60, 77 _____
62, 26, 52, 25 _____	29, 92, 73, 37 _____	81, 84, 18, 48 _____

13. Pobarvaj števila.

Pobarvaj števila, ki so večja od **45**.

49	28	81
52	39	46
41	92	65

Pobarvaj števila, ki so manjša od **27**.

42	28	21
19	29	17
51	22	31

Pobarvaj števila, ki so večja od **81**.

99	28	82
72	89	85
95	80	90

Pobarvaj števila, ki so manjša od **62**.

65	60	81
22	98	65
61	72	64

Pobarvaj števila, ki so manjša od **54**.

50	56	80
51	55	45
61	59	52

Pobarvaj števila, ki so večja od **72**.

76	80	71
70	74	90
73	62	81

Pobarvaj števila, ki so večja od **23**.

20	26	30
40	21	32
22	12	28

Pobarvaj števila, ki so večja od **59**.

49	60	71
58	29	66
47	62	85

Pobarvaj števila, ki so manjša od **79**.

80	60	77
78	90	46
85	92	82

14. Kaj spada skupaj? Z isto barvo pobarvaj tri kartončke.

$$20+6$$

$$26$$

$$2D + 6E$$

$$98$$

$$53$$

$$90+8$$

$$6D + 7E$$

$$67$$

$$50+3$$

$$42$$

$$70+1$$

$$3D + 5E$$

$$5D + 3E$$

$$8D + 4E$$

$$35$$

$$60+7$$

$$84$$

$$4D + 2E$$

$$9D + 8E$$

$$30+5$$

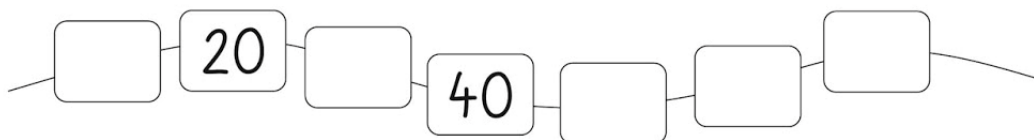
$$80+4$$

$$7D + 1E$$

$$71$$

$$40+2$$

15. Štej in vpiši manjkajoča števila.



16. Dopolni.

50	
40	
	30
	10
0	
50	

80	
60	
	10
50	
	40
30	

100	
70	
	90
	60
40	
50	

17. Izračunaj.

$50 + 30 = \underline{\quad}$

$10 + 40 = \underline{\quad}$

$70 + 20 = \underline{\quad}$

$30 + 70 = \underline{\quad}$

$80 + 20 = \underline{\quad}$

$50 + 20 = \underline{\quad}$

$40 + 50 = \underline{\quad}$

$20 + 60 = \underline{\quad}$

$30 + 40 = \underline{\quad}$

$30 + 10 = \underline{\quad}$

$40 + 30 = \underline{\quad}$

$30 + 20 = \underline{\quad}$

$80 + 5 = \underline{\quad}$

$60 + 5 = \underline{\quad}$

$70 + 6 = \underline{\quad}$

$90 + 1 = \underline{\quad}$

$40 + 3 = \underline{\quad}$

$30 + 2 = \underline{\quad}$

$50 + 2 = \underline{\quad}$

$20 + 4 = \underline{\quad}$

$60 + 3 = \underline{\quad}$

$52 + 5 = \underline{\quad}$

$64 + 4 = \underline{\quad}$

$86 + 1 = \underline{\quad}$

$91 + 6 = \underline{\quad}$

$42 + 7 = \underline{\quad}$

$35 + 3 = \underline{\quad}$

$23 + 6 = \underline{\quad}$

$74 + 3 = \underline{\quad}$

$43 + 2 = \underline{\quad}$